

# Задачи на принадлежность точки закрашенной области

Для отработки навыков работы с логическими операциями очень хорошо подходят задачи informatics №№112165-112173.

По формату все задачи одинаковы. В каждой закрашена область на декартовой плоскости. В программу вводятся координаты точки, и она должна определить, принадлежит ли точка закрашенной области или нет.

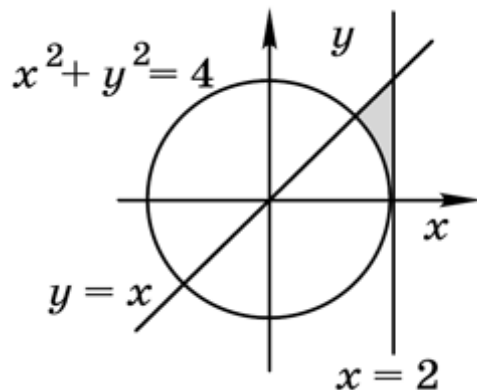
Поэтому и все программы-решения могут выглядеть совершенно одинаково:

```
double x = 0, y = 0;
scanf("%lf%lf", &x, &y);
printf ((...) ? "YES": "NO");
```

и различаться только условием в скобках.

## Пример

Решим задачу **112165. Точка-1**.



Для вертикальной прямой условие очевидно:  $x < 2$

Если дан график функции  $y = f(x)$ , то условие

«точка лежит **ниже** графика» записывается  $y < f(x)$ ,

«точка лежит **выше** графика»:  $y > f(x)$

В нашем случае, график – прямая с уравнением  $y = x$ , соответственно требуемое условие можно записать как  $y < x$ .

Наконец, принадлежность точки кругу («**внутри окружности**») записывается  $x^2 + y^2 < R^2$ ,

«**вне окружности**» -  $x^2 + y^2 > R^2$ ,

в нашем случае  $x * x + y * y > 4$ .

Точка принадлежит закрашенной области на рисунке, если она лежит левее вертикальной прямой **И** ниже графика функции  $y=x$  **И** вне окружности.

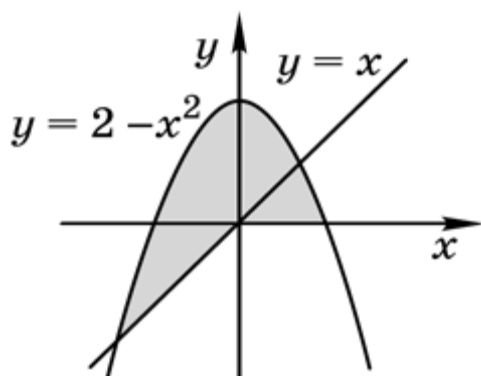
Соответственно, полностью условие для этой задачи будет выглядеть так:

$$x < 2 \ \&\& \ y < x \ \&\& \ x * x + y * y > 4$$

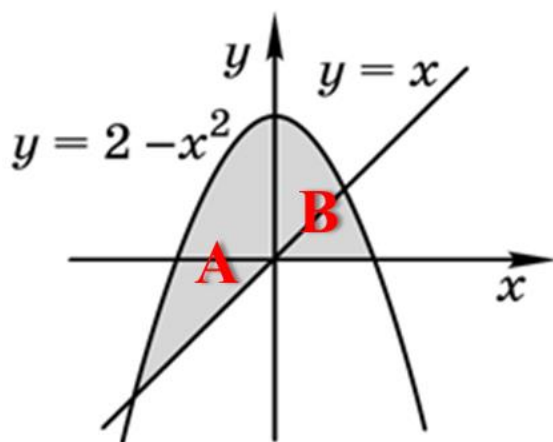
Для составления правильных условий, обычно надо разбивать сложную область на простые и связывать их логическими операциями.

### Пример

Задача 112167. Точка-3.



Удобно разбить область на две: левую (А) и правую (В):



**Область А:** точка лежит **под** параболой, **над** диагональной прямой и **слева** от оси ординат,

Таким образом, условие для нее будет  $y < 2 - x * x \ \&\& \ y > x \ \&\& \ x < 0$ .

**Область В:** точка лежит **под** параболой, **над** осью абсцисс и **справа** от оси ординат,

Таким образом, условие для нее будет  $y < 2 - x * x \ \&\& \ y > x \ \&\& \ x \geq 0$ .

Обратите внимание на последний знак  $\geq$ . Если написать просто знак  $>$  программа будет считать точки, которая лежат на оси абсцисс, лежащими вне области.

Условие - ответ на задачу: (точка **лежит в области А**) **ИЛИ** (точка **лежит в области В**)

В принципе, скобки благодаря более высокому приоритету операции `&&` ставить необязательно.